

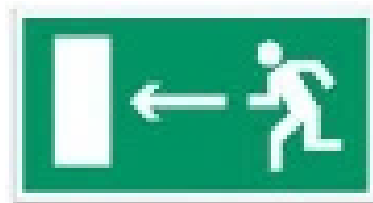
**ПРИГЛАСИТЕЛЬНЫЙ ШКОЛЬНЫЙ ЭТАП  
ВСЕРОССИЙСКОЙ ОЛИМПИАДЫ  
ШКОЛЬНИКОВ ОБЖ. 2023 г. 4–5 классы**

**Тестовые задания**

**Определите один правильный ответ.**  
За правильный ответ начисляется 2 балла.

**1 Что обозначает эвакуационный знак безопасности?**

- а) «выход здесь» (левосторонний)
- б) «направление к эвакуационному выходу налево»
- в) «выход здесь» (правосторонний)
- г) «направление к эвакуационному выходу направо»



**2 Какое значение имеет визуальный сигнал «земля – воздух»?**

- а) «нужен врач»
- б) «нужны вода и пища»
- в) «нужны медикаменты»
- г) «требуются оружие и боеприпасы»



**3 Определите аббревиатуру огнетушителя с порошковым огнетушащим веществом.**

- а) ОП
- б) ОВП
- в) ОВ
- г) ОВЭ

**4 Если сумма обхватов головы равна 1035–1055 мм, то размер (рост) маски противогаза ПДФ–2Ш равен**

- а) 1
- б) 2
- в) 3
- г) 4

**5 У противогаза ПДФ-2Ш, в отличие от ГП-7, имеется**

- а) переговорное устройство
- б) узел клапана вдоха
- в) фильтрующе-поглощающая коробка
- г) соединительная трубка

**6 Человек начинает ощущать землетрясение интенсивностью**

- а) 1–2 балла по шкале MSK-64
- б) 3–4 балла по шкале MSK-64
- в) 5 баллов по шкале MSK-64
- г) 6 баллов по шкале MSK-64



- 7 **Верны ли суждения, что при захвате Вас в заложники для противодействия террористам стоит применять**  
**А.** газовые баллончики и другие средства самообороны  
**Б.** электрошокеры или другие средства самообороны  
а) верно только А  
б) верно только Б  
в) верны оба суждения  
г) оба суждения неверны
- 8 **Верны ли следующие суждения о правилах закаливания?**  
**А.** Наращивание силы и длительности действия закаливающих процедур должно происходить постепенно.  
**Б.** Закаливающие процедуры рекомендуется выполнять периодически.  
а) верно только А  
б) верно только Б  
в) верны оба суждения  
г) оба суждения неверны
- 9 **Какая информация сообщается диспетчеру в первую очередь при вызове скорой медицинской помощи?**  
а) фамилия, имя, отчество вызывающего скорую медицинскую помощь  
б) количество пострадавших  
в) примерный возраст, пол пострадавших  
г) место происшествия, что случилось
- 10 **Верны ли следующие суждения о правилах оказания первой помощи при носовом кровотечении в случае, если пострадавший находится в сознании?**  
**А.** Пострадавшего усадить со слегка наклонённой вперёд головой.  
**Б.** Зажать пострадавшему нос в районе крыльев носа на 15–20 минут.  
а) верно только А  
б) верно только Б  
в) верны оба суждения  
г) оба суждения неверны

**Порядок оценивания тестовых заданий с одним правильным ответом.**

- за правильный ответ начисляется **2 балла**;
- **0 баллов** выставляется за неправильный ответ, а также если отмечены несколько ответов (в том числе правильный).

**Определите все правильные ответы.**

За каждый правильный ответ начисляется 2 балла.

- 1 **Лёд считается прочным с**
    - а) зеленоватым оттенком
    - б) молочным оттенком
    - в) синеватым оттенком
    - г) серым оттенком
    - д) фиолетовым оттенком
  - 2 **Порядок включения прибора в сеть:**
    - а) сначала шнур – к прибору
    - б) не имеет значения
    - в) затем в сеть
    - г) сначала шнур – в сеть
    - д) затем к прибору
  - 3 **Какие виды опасных насекомых изображены на фотографиях?**
    - а) клещ
    - б) каракурт
    - в) слепень
    - г) аргиопа
    - д) оса
- 
- 
- 4 **В случае грозы опаснее всего укрываться под**
    - а) берёзой
    - б) дубом
    - в) клёном
    - г) тополем
    - д) липой
  - 5 **В случае возникновения катастрофических ситуаций на самолётах обычно проявляются два опасных типа поведения пассажиров:**
    - а) агрессия
    - б) тревога
    - в) паника
    - г) страх
    - д) апатия
  - 6 **В случае пожара в квартире вызвать пожарную охрану можно по телефону:**
    - а) 101
    - б) 102
    - в) 103
    - г) 104
    - д) 112

- 7 **Терроризм переводится как**  
а) страх  
б) паника  
в) крайность  
г) ужас  
д) преступление
- 8 **Согласно данным ВОЗ, здоровье примерно на 20% зависит от**  
а) генетических факторов  
б) образа жизни  
в) уровня медицинского обеспечения  
г) состояния окружающей среды  
д) материального благополучия
- 9 **По каким признакам можно судить о том, что кровоостанавливающий жгут наложен правильно?**  
а) побледнение кожи конечности ниже наложения жгута  
б) синюшность кожи конечности ниже наложения жгута  
в) отсутствие пульса на артерии конечности ниже наложения жгута  
г) появление отёка конечности ниже наложения жгута  
д) уменьшение кровотечения
- 10 **Какие действия необходимо выполнить для оказания первой помощи пострадавшему в случае укуса собаки?**  
а) небольшие раны (ссадины) промыть проточной водой с мылом, наложить стерильную повязку  
б) промыть рану спиртовым раствором бриллиантового зелёного  
в) дать обезболивающее лекарственное средство  
г) обратиться за медицинской помощью  
д) если повреждение незначительное, лечить рану самостоятельно

**Порядок оценивания тестовых заданий с несколькими правильными ответами.** Максимальная оценка за каждое правильно выполненное задание – **4 балла**, при этом

- за каждый правильный ответ начисляется **2 балла**;
- **0 баллов** выставляется за неправильный ответ, а также если отмечены более двух ответов (в том числе правильные).

**Максимум за задания – 60 баллов.**

## Теоретические задания

### Задание 1

Знание значений сигналов светофора помогает пешеходу и водителю сохранить жизнь и здоровье. Сопоставьте цвет сигнала светофора и его значение.

Сигнал светофора	Значение сигнала светофора
Зелёный сигнал	разрешает движение и информирует о том, что время его действия истекает и вскоре будет включён запрещающий сигнал
Зелёный мигающий сигнал	разрешает движение и информирует о наличии нерегулируемого перекрёстка или пешеходного перехода, предупреждает об опасности
Жёлтый сигнал	разрешает движение
Жёлтый мигающий сигнал	запрещает движение
Красный сигнал, в том числе мигающий	запрещает движение, кроме случаев, предусмотренных пунктом 6.14 Правил, и предупреждает о предстоящей смене сигналов

Максимальная оценка за правильно выполненное задание – **10 баллов**.

### Задание 2

Оборона Москвы занимает особое место в истории Великой Отечественной войны – от результатов битвы за столицу СССР зависел весь дальнейший ход войны. В Москве установлено много памятников людям, внёсшим значительный вклад в победу над врагом. Соотнесите изображения памятников с их названиями.

Изображение памятника	Кому установлен памятник
	Памятник воинам – героям противовоздушной обороны Москвы
	Памятник в честь воинов, чьи имена не были установлены
	Памятник подольским курсантам
	Памятник воинам-сапёрам
	Памятник воинам-медикам

Максимальная оценка за правильно выполненное задание – **10 баллов.**

### Задание 3

Туристические костры делятся на типы. Каждый тип костра имеет своё название. Сопоставьте изображение костра и его название.

Изображение костра	Название типа костра
	«таёжный»
	«звёздный»
	«шалаш»
	«нодья»
	«колодец»

Максимальная оценка за правильно выполненное задание – **10 баллов**.

### Задание 4–5

Установите соответствие между видом травмы и её признаками.

Вид травмы	Признаки травмы
Вывих	<ul style="list-style-type: none"><li>• отёк</li><li>• боль</li><li>• кровоизлияние</li><li>• нарушение функции конечности</li></ul>
Ушиб	<ul style="list-style-type: none"><li>• отёк</li><li>• боль</li><li>• кровоизлияние</li><li>• нарушение функции конечности</li></ul>
Перелом	<ul style="list-style-type: none"><li>• деформация в области сустава</li><li>• пружинящее сопротивление при попытке изменить положение</li></ul>
Растяжение	<ul style="list-style-type: none"><li>• отёк</li><li>• боль</li><li>• кровоизлияние</li><li>• нарушение функции конечности</li><li>• деформация конечности</li><li>• костный хруст</li></ul>

Максимальная оценка за правильно выполненное задание – **8 баллов**.

Укажите термин, обозначающий придание неподвижности конечности, части тела:

1. аберрация
2. иммобилизация
3. гипотензия
4. дисплазия

**Ответ: 2**

Максимальная оценка за правильно выполненное задание – **2 балла**.

**Максимальная оценка за работу – 100 баллов.**